

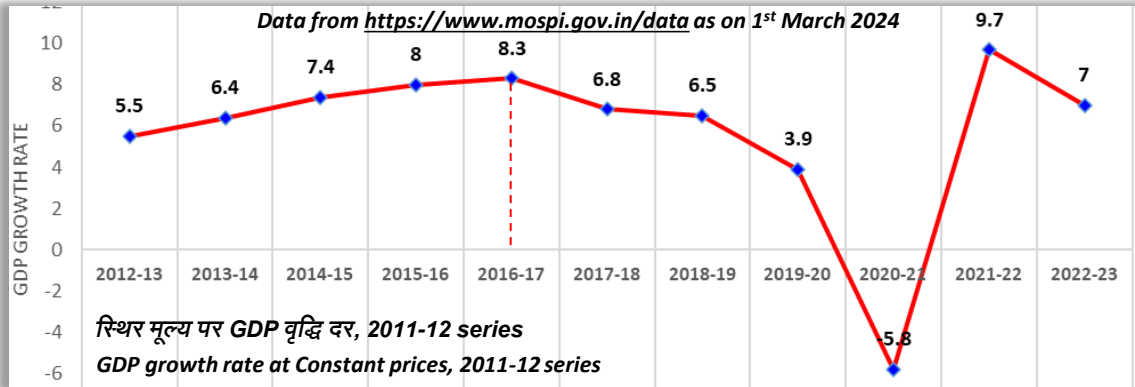
All Inclusive IAS - Prelims 2024

← English video

Economy Class-01

हिंदी वीडियो →

GDP



Per capita income as per Mospi

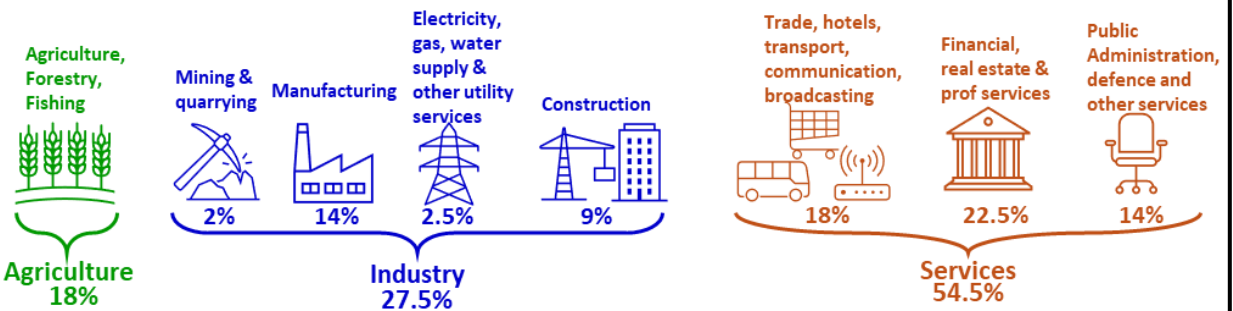
At constant price: ₹ 99,404 (2022-23)

At current price : ₹ 1.7 lakh (2022-23)

Note

GDP growth rate **steadily decreased** during 2016-17 to 2020-21.

2016-17 से 2020-21 के दौरान GDP विकास दर में लगातार कमी आई थी।



Note: Percentages given here are from Mospi data of 1st Revised estimates for 2022-23 at Current Price considering 2011-12 as base year. Hence, there will be slight variations over time. For exam, just have approx. idea.

Without data, guess which sector has more share in GDP?

- ❖ Agriculture or Manufacturing? **Agriculture**
 - ❖ Manufacturing or Construction? **Manufacturing**
 - ❖ Construction or Mining? **Construction**
- Agri > Manufacturing > Construction > Mining

बिना डेटा अंदाजा लगाओ कि GDP में किसकी हिस्सेदारी ज्यादा है?

- ❖ कृषि या विनिर्माण? **कृषि**
- ❖ विनिर्माण या निर्माण? **निर्माण**
- ❖ निर्माण या खनन? **निर्माण**
- ❖ कृषि > विनिर्माण > निर्माण > खनन

Prelims 1999 Since 1980, the **share of the tertiary sector** in the total GDP of India has:

- (a) shown an increasing trend (b) shown a decreasing trend
(c) remained constant (d) been fluctuating

1980 के बाद से, भारत के कुल सकल घरेलू उत्पाद (GDP) में तृतीयक क्षेत्र की भागेदारी :

- (a) बढ़ती प्रवृत्ति दिखाई (b) घटती प्रवृत्ति दिखाई
(c) स्थिर रहा (d) उतार-चढ़ाव रहा है

Prelims 2017 Which of the following has/have occurred in India after its liberalization of economic policies in 1991?

- Share of agriculture in GDP increased enormously
 - Share of India's exports in world trade increased
 - FDI inflows increased
 - India's foreign exchange reserves increased enormously
- Select the correct answer using the codes given below:

- (a) 1 and 4 only (b) 2, 3 and 4 only
(c) 2 and 3 only (d) 1, 2, 3 and 4

निम्नलिखित में से कौन से भारत में 1991 में आर्थिक नीतियों के उदारीकरण के बाद घटित हुए हैं?

- GDP में कृषि का अंश बृहत् रूप से बढ़ गया
 - विश्व व्यापार में भारत के निर्यात का अंश बढ़ गया
 - FDI का अंतर्वाह (इनफ्लो) बढ़ गया
 - भारत का विदेशी विनिमय भण्डार बृहत् रूप से बढ़ गया
- नीचे दिए गए कूट का प्रयोग कर सही उत्तर चुनिए:
- (a) केवल 1 और 4 (b) केवल 2, 3 और 4
(c) केवल 2 और 3 (d) 1, 2, 3 और 4

Separate explanation videos are available in English & Hindi

अंग्रेजी और हिंदी में अलग-अलग वीडियो उपलब्ध हैं

<p>Prelims 2015</p> <p>1. <u>Rate</u> of growth of Real GDP has <u>steadily increased</u> in the last decade.</p> <p>2. <u>GDP</u> at market prices (in rupees) has <u>steadily increased</u> in the last decade.</p> <p>Which of the statements given above is/are correct?</p> <p>(a) 1 only (b) 2 only (c) Both 1 and 2 (d) Neither 1 nor 2</p>	<p>1. पिछले दशक में वास्तविक सकल घरेलू उत्पाद की वृद्धि दर लगातार बढ़ी है।</p> <p>2. पिछले दशक में बाजार कीमतों पर (रुपयों में) सकल घरेलू उत्पाद लगातार बढ़ता रहा है ऊपर दिए गए कथनों में से कौन सा/से सही है/हैं?</p> <p>(a) केवल 1 (b) केवल 2 (c) 1 और 2 दोनों (d) न तो 1 और न ही 2</p>
<p>Prelims 2011</p> <p>In the context of Indian economy, consider the following statements:</p> <p>1. The <u>growth rate</u> of GDP has <u>steadily increased</u> in the last five years.</p> <p>2. The <u>growth rate</u> in per capita income has <u>steadily increased</u> in the last five years.</p> <p>Which of the statements given above is/are correct ?</p> <p>(a) 1 only (b) 2 only (c) Both 1 and 2 (d) Neither 1 nor 2</p>	<p>1. पिछले पांच वर्षों में GDP की वृद्धि दर लगातार बढ़ी है।</p> <p>2. पिछले पांच वर्षों में प्रति व्यक्ति आय की वृद्धि दर लगातार बढ़ी है।</p> <p>ऊपर दिए गए कथनों में से कौन-सा/से सही है/हैं?</p> <p>(a) केवल 1 (b) केवल 2 (c) 1 और 2 दोनों (d) न तो 1 और न ही 2</p>
<p>Prelims 2017 Consider the following statements:</p> <p>1. Tax revenue as a per cent of GDP of India has <u>steadily increased</u> in the last decade.</p> <p>2. Fiscal deficit as a per cent of GDP of India has <u>steadily increased</u> in the last decade.</p> <p>Which of the statements given above is/are correct?</p> <p>(a) 1 only (b) 2 only (c) Both 1 and 2 (d) Neither 1 nor 2</p>	<p>1. पिछले दशक में भारत के GDP के प्रतिशत के रूप में कर-राजस्व में सतत वृद्धि हुई है।</p> <p>2. पिछले दशक में भारत के GDP के प्रतिशत के रूप में राजकोषीय घाटे में सतत वृद्धि हुई है।</p> <p>उपर्युक्त कथनों में से कौन-सा/से सही है/हैं?</p> <p>(a) केवल 1 (b) केवल 2 (c) 1 और 2 दोनों (d) न तो 1 और न ही 2</p>
<p>Prelims 2010</p> <p>With reference to Indian economy, consider the following statements:</p> <p>1. GDP has increased by <u>4 times</u> in the last 10 years.</p> <p>2. The percentage share of Public Sector in GDP has <u>declined</u> in the last 10 years.</p> <p>Which of the statements, given above is/ are correct?</p> <p>(a) 1 only (b) 2 only (c) Both 1 and 2 (d) Neither 1 nor 2</p>	<p>1. सकल घरेलू उत्पाद (GDP) में विगत एक दशक में चार गुना वृद्धि हुई है।</p> <p>2. पिछले 10 वर्षों में सकल घरेलू उत्पाद में सार्वजनिक क्षेत्र की प्रतिशत हिस्सेदारी में गिरावट आई है।</p> <p>ऊपर दिए गए कथनों में से कौन सा/से सही है/हैं?</p> <p>(a) केवल 1 (b) केवल 2 (c) 1 और 2 दोनों (d) न तो 1 और न ही 2</p>
<p>Practice question</p> <p>1. <u>Farmer</u> income almost doubled in last 5 years</p> <p>2. <u>GDP</u> almost doubled in the last 5 years</p> <p>3. <u>Sensex</u> almost doubled in last 5 years</p> <p>Which of the statements, given above is/ are correct?</p> <p>(a) 1 and 2 only (b) 2 and 3 only (c) 1 and 3 only (d) 3 only</p>	<p>1. पिछले 5 वर्षों में किसानों की आय लगभग दोगुनी हुई है।</p> <p>2. पिछले 5 वर्षों में GDP लगभग दोगुनी हो गई है।</p> <p>3. पिछले 5 वर्षों में सेंसेक्स लगभग दोगुना हो गया है।</p> <p>ऊपर दिए गए कथनों में से कौन से सही हैं?</p> <p>(a) केवल 1 और 2 (b) केवल 2 और 3 (c) केवल 1 और 3 (d) केवल 3</p>

Changes made in 2015

	Till 2015	From 2015
Change of Base year	Base year was 2004-05 आधार वर्ष 2004-2005 था	Base year is 2011-12 आधार वर्ष 2011-12 है
Use of SNA	GVA was calculated at factor cost GVA की गणना कारक लागत पर की जाती थी	GVA is calculated at basic price GVA की गणना मूल मूल्य पर की जाती है
Use of MCA21	'Annual Survey of Industries' was used which gave data from 2 lakh companies उद्योगों के वार्षिक सर्वेक्षण का उपयोग किया जाता था जिसमें 2 लाख कंपनियों के आंकड़े थे	MCA21 database is used, which gives data from more than 5 lakh companies MCA21 डेटाबेस का इस्तेमाल होता है, जिसमें 5 लाख से ज्यादा कंपनियों के आंकड़े हैं
Use of ELI method	'Labour Input Method' was used. It assumed that all workers add equal value. 'लेबर इनपुट मेथड' का इस्तेमाल होता था। यह मानता था कि सभी श्रमिक समान मूल्य जोड़ते हैं।	'Effective Labour Input method' is used. It assumes that better skilled workers add more value. प्रभावी श्रम इनपुट विधि का उपयोग किया जाता है। यह मानता है कि कुशल श्रमिक अधिक मूल्य जोड़ते हैं।

System of National Accounts:

- by UN Statistical Commission
- international standards for national accounts
- first published in 1953, latest edition in 2008

राष्ट्रीय लेखा प्रणाली

- संयुक्त राष्ट्र सांख्यिकी आयोग द्वारा
- राष्ट्रीय खातों के लिए अंतर्राष्ट्रीय मानक
- पहली बार 1953 में प्रकाशित, 2008 में नवीनतम संस्करण

Separate explanation videos are available in English & Hindi

अंग्रेजी और हिंदी में अलग-अलग वीडियो उपलब्ध हैं

GVA vs GDP

Indian Express: March 3, 2024 [Link](#)

India's GDP data for 2023-24's Q3: Why have GDP and GVA growth rates diverged?

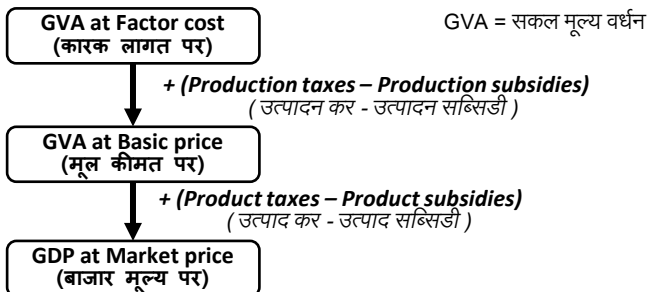
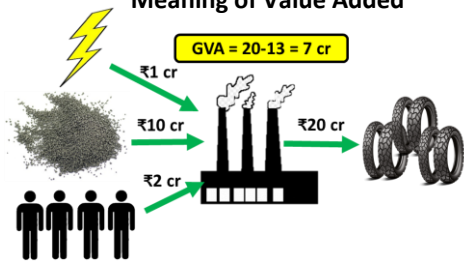
The difference between the two sets of growth rates widened to 190 basis points in Q3, a 10-year high. This large divergence is due to a sharp increase in net taxes and a fall in subsidies

GDP Growth in Q3 2023-24
6.5% (RBI's expectation)
8.4% (announced by NSO)
6.5% (GVA announced by NSO)
GDP = GVA + (taxes - subsidies)

- ❑ Difference between GDP and GVA has led some economists to suspect that GDP may have been overstated.
- ❑ Officials said the divergence is due to 25% less payment of fertilizer subsidy.
- ❑ By reducing last year's numbers, govt has used "base effect" to boost this year's numbers.

- ❖ GDP और GVA के बीच अंतर से कुछ अर्थशास्त्रियों को संदेह हुआ है कि GDP को बढ़ा-चढ़ाकर पेश किया गया है।
- ❖ अधिकारियों ने कहा कि उर्वरक सब्सिडी के 25% कम भुगतान के कारण भिन्नता आई है।
- ❖ सरकार ने पिछले साल के आंकड़ों को गिरा कर, "बेस इफेक्ट" की मदद से, इस साल के आँकड़े बढ़ाए हैं।

Meaning of Value Added




Production tax vs Product tax *Source: <https://pib.gov.in/PressReleasePage.aspx?PRID=1903091>*

- ❑ **Production taxes or subsidies** are applied on production, irrespective of volume of actual production
 - **Production Taxes** - Land Revenues, Stamps & Registration fees and Tax on profession
 - **Production Subsidies** - Subsidies to Railways, Subsidies to village and small industries
- ❑ **Product taxes or subsidies** are applied on per unit of product
 - **Product Taxes** - Excise duties, Sales tax, Service Tax and Import, Export duties
 - **Product Subsidies** - Food, Petroleum and fertilizer subsidies.


उत्पादन कर vs उत्पाद कर

- ❑ **उत्पादन-कर/सब्सिडी** उत्पादन पर लागू होते हैं (उत्पादन की वास्तविक मात्रा पर लागू नहीं होते, चाहे मात्रा कितनी भी हो)
 - **उत्पादन कर** - भू-राजस्व, स्टाम्प (Stamp) और पंजीकरण शुल्क, व्यवसाय पर कर (Tax)
 - **उत्पादन सब्सिडी** - रेलवे को सब्सिडी, ग्रामीण और छोटे उद्योगों को सब्सिडी
- ❑ **उत्पाद-कर/सब्सिडी** प्रति इकाई उत्पाद पर लागू होती हैं
 - **उत्पाद कर** - उत्पाद शुल्क (Excise Duty), बिक्री कर (Sales tax), सेवा कर, आयात-निर्यात शुल्क
 - **उत्पाद सब्सिडी** - फूड, पेट्रोलियम और उर्वरक सब्सिडी

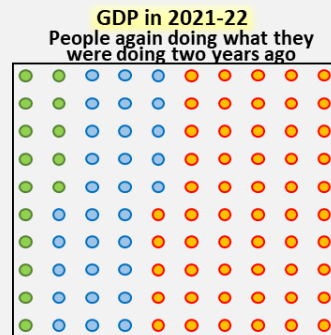
Base effect



$$GDP \text{ growth} = \frac{5}{100} \times 100 = 5\%$$



$$GDP \text{ growth} = \frac{-20}{100} \times 100 = -20\%$$



$$GDP \text{ growth} = \frac{20}{80} \times 100 = 25\%$$

Base effect creating illusion of unprecedented growth

Note: imaginary figures used for explanation purpose

CSAT : 20% discount and 25% price increase leads to no change

स्पष्टीकरण उद्देश्य के लिए काल्पनिक आंकड़े इस्तेमाल किए गए हैं।

20% छूट और 25% वृद्धि से कोई बदलाव नहीं होता है।

Separate explanation videos are available in English & Hindi

अंग्रेजी और हिंदी में अलग-अलग वीडियो उपलब्ध हैं

Prelims 2011 Rapid increase in rate of inflation is sometimes attributed to "base effect". What is "base effect"?

- (a) It is the impact of drastic deficiency in supply due to failure of crops
- (b) It is the impact of the surge in demand due to rapid economic growth
- (c) It is the impact of the price levels of previous year on calculation of inflation rate
- (d) None of the statements (a), (b) and (c) given above is correct in this context

मुद्रास्फीति की दर में तीव्र वृद्धि को कभी-कभी "आधार प्रभाव" के लिए जिम्मेदार ठहराया जाता है। "आधार प्रभाव" क्या है?

- (a) यह फसलों की विफलता के कारण आपूर्ति में भारी कमी का प्रभाव है
- (b) यह तीव्र आर्थिक विकास के कारण मांग में वृद्धि का प्रभाव है
- (c) यह मुद्रास्फीति दर की गणना पर पिछले वर्ष के मूल्य स्तरों का प्रभाव है
- (d) इस संदर्भ में ऊपर दिए गए कथन (a), (b) और (c) में से कोई भी सही नहीं है

Difference between GDP, GNP, NDP, NNP

Prelims 2013 The national income of a country for a given period is equal to the

- (a) total value of goods and services produced by nationals
- (b) sum of total consumption and investment expenditure
- (c) sum of personal income of all individuals
- (d) money value of final goods and services produced

किसी दी गई अवधि के लिए देश की राष्ट्रीय आय






- (a) नागरिकों द्वारा उत्पादित वस्तुओं और सेवाओं के कुल मूल्य के बराबर होगी
- (b) कुल उपभोग और निवेश व्यय के योग के बराबर होगी
- (c) सभी व्यक्तियों की व्यक्तिगत आय के योग के बराबर होगी
- (d) उत्पादित अंतिम वस्तुओं और सेवाओं के मौद्रिक मूल्य के बराबर होगी

Prelims 2001 The term National Income represents:

- (a) gross national product at market prices minus depreciation
- (b) gross national product at market prices minus depreciation plus net factor income from abroad
- (c) gross national product at market prices minus depreciation and indirect taxes plus subsidies
- (d) gross national product at market prices minus net factor income from abroad

राष्ट्रीय आय क्या दर्शाता है

- (a) बाजार कीमतों पर सकल राष्ट्रीय उत्पाद माइनस मूल्यहास
- (b) बाजार कीमतों पर सकल राष्ट्रीय उत्पाद माइनस मूल्यहास प्लस विदेशों से प्राप्त निवल आय
- (c) बाजार कीमतों पर सकल राष्ट्रीय उत्पाद माइनस मूल्यहास और अप्रत्यक्ष कर प्लस सब्सिडी
- (d) बाजार कीमतों पर सकल राष्ट्रीय उत्पाद माइनस विदेश से शुद्ध कारक आय

<p>GDP</p> 	<p>GNP</p> 	<p>Gross Domestic Product → Gross National Product</p> <p>↓ ↓</p> <p>Net Domestic Product Net National Product</p> <p>Domestic + NFIFA = National Gross - Depreciation = Net</p> <p>Is it possible?</p> <table style="margin-left: auto; margin-right: auto;"> <tr> <td>GDP > GNP</td> <td>Yes</td> <td rowspan="2">} NFIFA can be +ve or -ve</td> </tr> <tr> <td>GDP < GNP</td> <td>Yes</td> </tr> <tr> <td>GDP < NDP</td> <td>No</td> <td rowspan="2">} Depreciation is always +ve</td> </tr> <tr> <td>GNP < NNP</td> <td>No</td> </tr> </table>	GDP > GNP	Yes	} NFIFA can be +ve or -ve	GDP < GNP	Yes	GDP < NDP	No	} Depreciation is always +ve	GNP < NNP	No
GDP > GNP	Yes	} NFIFA can be +ve or -ve										
GDP < GNP	Yes											
GDP < NDP	No	} Depreciation is always +ve										
GNP < NNP	No											
<p>GDP — (depreciation) = NDP</p> 	<p>GNP — (depreciation) = NNP</p> 	 <p>Gross = 12 Spoilt = 1 Net = 11</p> <p>National Income = NNP at factor cost</p>										

Gross - depreciation = Net
 $\underline{\text{GDP}} - \text{depreciation} = \underline{\text{NDP}}$
 $\underline{\text{GNP}} - \text{depreciation} = \underline{\text{NNP}}$

Domestic + NFIFA = National
 $\text{GDP} + \text{NFIFA} = \text{GNP}$
 $\text{NDP} + \text{NFIFA} = \text{NNP}$

Factor cost + tax - subsidy = Market Price
 Market Price - (tax - subsidy) = Factor cost

Depreciation = मूल्य हास

NFIFA = विदेशों से प्राप्त निवल आय = (देश के निवासियों द्वारा आर्थिक सीमा के बाहर अर्जित आय) - (गैर निवासियों द्वारा आर्थिक सीमा के भीतर अर्जित आय)

Separate explanation videos are available in English & Hindi

अंग्रेजी और हिंदी में अलग-अलग वीडियो उपलब्ध हैं

Nominal GDP vs Real GDP

Prelims 2000 The growth rate of per capita income at **current prices** is higher than that of per capita income at **constant prices**, because the latter takes into account the rate of
 (a) growth of population (b) increase in price level
 (c) growth of money supply (d) increase in the wage rate


वर्तमान मूल्यों पर प्रति व्यक्ति आय की वृद्धि दर स्थिर मूल्यों पर प्रति व्यक्ति आय की वृद्धि दर से अधिक होती है क्योंकि वह मानती है
 (a) जनसंख्या में वृद्धि (b) मूल्य स्तर में वृद्धि
 (c) मुद्रा पूर्ति में वृद्धि (d) मजदूरी दर में वृद्धि

Prelims 1992 A **deflator** is a technique of
 (a) Adjusting for changes in price level
 (b) Adjusting for change in commodity
 (c) Accounting for decline of GNP
 (d) Accounting for higher increase of GNP


डिफ्लेटर किसकी एक तकनीक है?
 (a) मूल्य स्तर में परिवर्तन के लिए समायोजन
 (b) वस्तु में परिवर्तन के लिए समायोजन
 (c) GNP की गिरावट के लिए लेखांकन
 (d) GNP में उच्च वृद्धि के लिए लेखांकन



There is a small country. It makes only cars. एक छोटा सा देश है केवल कार बनाता है



Year-1 20 cars ₹ 5 lakh/car
GDP = ₹ 1 crore



Year-2 21 cars ₹ 6 lakh/car
Nominal GDP = 21 x 6 = ₹ 1.26 crore
Real GDP = 21 x 5 = ₹ 1.05 crore

GDP: market value of all finished goods & services produced within a country's borders in a specific time period

GDP: एक विशिष्ट समय अवधि में देश की सीमाओं के भीतर उत्पादित सभी तैयार वस्तुओं और सेवाओं का बाजार मूल्य

Nominal GDP is calculated at Current price
Real GDP is calculated at Constant price

नॉमिनल GDP की गणना वर्तमान मूल्य पर की जाती है वास्तविक GDP की गणना स्थिर मूल्य पर की जाती है

$$\text{GDP deflator} = \frac{\text{Nominal GDP}}{\text{Real GDP}} = \frac{1.26}{1.05} = 1.20$$

During inflation: Nominal GDP will be more. Deflator will be more than 1.
During deflation: Nominal GDP will be less. Deflator will be less than 1.
महंगाई के दौरान: नॉमिनल GDP ज्यादा होगी। डिफ्लेटर 1 से अधिक होगा।
अपस्फीति के दौरान: नॉमिनल GDP कम होगी। डिफ्लेटर 1 से कम होगा।

GDP deflator	CPI
It considers all goods & services produced in India	It considers only few
It does not consider imported goods	It considers some imported goods
Weightages vary as per production volume	Weightages are fixed

GDP deflator	CPI
यह भारत में उत्पादित सभी वस्तु और सेवा मानता है	यह कुछ को ही मानता है
यह भारत में आयातित सामान को नहीं मानता है	यह कुछ आयातित सामान को मानता है
उत्पादन की मात्रा के अनुसार वेटेज अलग-अलग होते हैं	वेटेज तय होती है

Prelims 2001
 The most appropriate measure of economic growth is its:
 (a) Gross Domestic Product
 (b) Net Domestic Product
 (c) Net National Product
 (d) Per Capita Real Income

Prelims 2018 **GDP → Per capita GDP → Poverty & jobs**
 Increase in absolute and per capita real GNP do not connote a higher level of **economic development**, if
 (a) industrial output fails to keep pace with agricultural output.
 (b) agricultural output fails to keep pace with industrial output.
 (c) poverty and unemployment increase.
 (d) imports grow faster than exports.

आर्थिक विकास का सबसे उपयुक्त माप है:
 (a) सकल घरेलू उत्पाद
 (b) शुद्ध घरेलू उत्पाद
 (c) शुद्ध राष्ट्रीय उत्पाद
 (d) प्रति व्यक्ति वास्तविक आय

निरपेक्ष तथा प्रति व्यक्ति वास्तविक GNP की वृद्धि आर्थिक विकास की ऊंची दर का संकेत नहीं करती, यदि
 (a) औद्योगिक उत्पादन कृषि उत्पादन के साथ-साथ बढ़ने में विफल रह जाता है
 (b) कृषि उत्पादन औद्योगिक उत्पादन के साथ-साथ बढ़ने में विफल रह जाता है
 (c) निर्धनता और बेरोजगारी में वृद्धि होती है
 (d) निर्यातों की अपेक्षा आयात तेजी से बढ़ते हैं

Separate explanation videos are available in English & Hindi

अंग्रेजी और हिंदी में अलग-अलग वीडियो उपलब्ध हैं

\$5 trillion economy

Prelims 2017

What are the most likely advantages of **implementing GST**?

1. It will replace multiple taxes collected by multiple authorities and will thus create a single market in India.
2. It will drastically reduce the 'Current Account Deficit' of India and will enable it to increase its foreign exchange reserves.
3. **It will enormously increase the growth and size of economy of India and will enable it to overtake China in the near future.**

Select the correct answer:

- (a) 1 only** (b) 2 & 3 only (c) 1 & 3 only (d) 1, 2, 3

Practice question

What are the most likely advantages of becoming **\$ 5 trillion economy**?

1. Everyone will have a house
2. Every house will have toilet
3. Farmers income will double
4. No child will sleep hungry

Select the correct answer:

- (a) 1 & 2 only (b) 3 only (c) 4 only **(d) None**

- ❖ **Social media is full of unrealistic optimism**
- ❖ **Such messages are created for general public**
- ❖ **They should not impact your answer in exam**

GST के क्रियान्वित किए जाने के सर्वाधिक संभावित लाभ क्या हैं?

1. यह भारत में बहु-प्राधिकरणों द्वारा वसूल किए जा रहे बहुल करों का स्थान लेगा और इस प्रकार एकल बाजार स्थापित करेगा।
2. यह भारत के 'चालू खाता घाटे' को प्रबलता से कम करके विदेशी मुद्रा भंडार को बढ़ाने हेतु उसे सक्षम बनाएगा।
3. यह भारत की अर्थव्यवस्था की संवृद्धि और आकार को बृहद रूप से बढ़ाएगा और उसे निकट भविष्य में चीन से आगे निकल जाने योग्य बनाएगा।

नीचे दिए गए कूट का प्रयोग कर सही उत्तर चुनिए :

- (a) केवल 1 (b) केवल 2 और 3 (c) केवल 1 और 3 (d) 1, 2, 3

5 ट्रिलियन डॉलर की अर्थव्यवस्था बनने के सबसे संभावित फायदे क्या हैं?

1. सबके पास घर होगा
2. हर घर में होगा शौचालय
3. किसानों की आय दोगुनी होगी
4. कोई बच्चा भूखा नहीं सोएगा

- (a) केवल 1 & 2 (b) केवल 3 (c) केवल 4 (d) कोई नहीं

- ❖ **सोशल मीडिया अवास्तविक आशावाद से भरा है**
- ❖ **इस तरह के संदेश आम जनता के लिए बनाए जाते हैं**
- ❖ **ऐसे चीजों से आपका परीक्षा में उत्तर प्रभावित नहीं होना चाहिए**

Indian GDP was \$ 1 trillion in 2007 and \$ 2 trillion in 2014. With same growth rate, what will be GDP in 2021 and 2028?

2007 में भारतीय GDP 1 ट्रिलियन डॉलर और 2014 में 2 ट्रिलियन डॉलर थी। उसी विकास दर के साथ, 2021 और 2028 में GDP क्या होगी?

- (a) \$3 trillion, \$4 trillion (b) **\$4 trillion, \$8 trillion** (c) \$5 trillion, \$10 trillion (d) \$6 trillion, \$12 trillion

 **Live Mint**
<https://www.livemint.com/economy/india-to-beco...>

India to become a \$26 trillion economy by 2047: EY report
 18-Jan-2023 — NEW DELHI: The Indian economy is likely to reach the \$26 trillion mark by 2047, the 100th year of the country's independence, according to ...

 **Fortune India**
<https://www.fortuneindia.com/macro/india-can-bec...>

India can become \$47 trillion economy by 2047: Piyush ...
 22-Feb-2023 — It is not at all inconceivable for India to achieve an economy of \$47 trillion by 2047, Piyush Goyal, Union Minister of Commerce & Industry, ...

Despite not knowing future govts and their economic policies, how are such predictions made? Because generally,

Developing countries grow faster than developed countries

Smaller economy grows faster than bigger economy

Developing country 6-7% (real), Developed country 2-3% (real)

Countries growing at 6-7% will overtake those growing at 2-3%

2012: India overtook Japan to become 3rd largest economy (PPP)

2022: India overtook UK to become 5th largest economy (nominal)

भविष्य की सरकारों और उनकी आर्थिक नीतियों को जाने बिना, ऐसी भविष्यवाणियाँ कैसे की जाती हैं? यह संभव है क्योंकि :

विकासशील देश, विकसित देशों से अधिक तेजी से बढ़ते हैं।

छोटी अर्थव्यवस्था, बड़ी अर्थव्यवस्था की तुलना में तेजी से बढ़ती है

विकासशील देश 6-7% विकसित देश 2-3%

6-7% की दर वाले देश, 2-3% की दर वाले देशों से आगे निकल जाएंगे

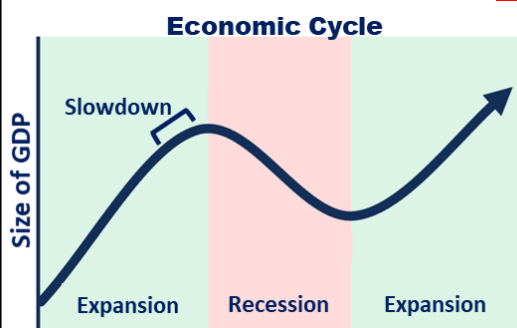
2012: भारत जापान को पछाड़कर तीसरी सबसे बड़ी अर्थव्यवस्था (PPP) बना

2022: भारत ब्रिटेन को पछाड़कर 5वीं सबसे बड़ी अर्थव्यवस्था बना (नोमिनल)

10% annual growth in Nominal GDP is enough to double the Economy every 7 years (irrespective of party in power)

नॉमिनल GDP में 10% वार्षिक वृद्धि हर 7 साल में अर्थव्यवस्था को दोगुना करने के लिए पर्याप्त है (सत्ता में पार्टी कोई भी हो)

Economic Recovery



Slowdown	<ul style="list-style-type: none"> ➤ GDP growth rate reduces ➤ Size of GDP continues to increase, but slowly ➤ GDP की वृद्धि दर काम होती है ➤ GDP का आकार बढ़ता रहता है, लेकिन धीरे धीरे
Recession	<ul style="list-style-type: none"> ➤ GDP growth rate becomes negative for two consecutive quarters ➤ Size of GDP reduces ➤ लगातार दो तिमाहियों में GDP विकास दर नकारात्मक हो जाती है ➤ GDP का आकार कम हो जाता है
Depression	<ul style="list-style-type: none"> ➤ Prolonged Recession ➤ Size of GDP reduces by 10% e.g. USA in 1930s ➤ लंबे समय के लिए रिसेशन ➤ GDP का आकार 10% कम हो जाता है, जैसे 1930s का अमेरिका

Separate explanation videos are available in English & Hindi

अंग्रेजी और हिंदी में अलग-अलग वीडियो उपलब्ध हैं

List-I (Term)	Prelims 2001	List-II (Explanation)
A. Boom B. Recession C. Depression D. Recovery	1. Business activity at high level with increasing income, output and employment at macro level 2. Gradual fall of income, output and employment with business activity in a low gear 3. Unprecedented level of underemployment & unemployment, drastic fall in income output & employment 4. Steady rise in the general level of prices, income, output and employment.	
A. बूम B. रिसेशन C. डिप्रेशन D. रिकवरी	1. मैक्रो स्तर पर बढ़ती आय, उत्पादन और रोजगार के साथ उच्च स्तर पर व्यावसायिक गतिविधि 2. धीमी व्यावसायिक गतिविधि के साथ आय, उत्पादन और रोजगार का क्रमिक पतन 3. अन्डर-इम्प्लॉइन्ट और अन-इम्प्लॉइन्ट का अभूतपूर्व स्तर, आय उत्पादन और रोजगार में भारी गिरावट 4. कीमतों, आय, उत्पादन और रोजगार के सामान्य स्तर में लगातार वृद्धि	
Codes:	(a) A-1; B-2; C-3; D-4 (b) A-1; B-2; C-4; D-3 (c) A-2; B-1; C-4; D-3 (d) A-2; B-1; C-3; D-4	
Prelims 2010:	In context of Indian economy, consider following	भारतीय अर्थव्यवस्था के संदर्भ में, निम्नलिखित पर विचार कीजिये
Term	Most appropriate description	शब्द सबसे उपयुक्त विवरण
1. Meltdown	Fall in stock prices	1. मेल्टडाउन स्टॉक की कीमतों में गिरावट
2. Recession	Fall in growth rate	2. रिसेशन विकास दर में गिरावट
3. Slowdown	Fall in GDP	3. स्लोडाउन GDP में गिरावट
Which of the above pairs are correctly matched?		उपर्युक्त युग्मों में से कौन-से सही सुमेलित हैं?
(a) <u>1 only</u> (b) 2 & 3 only (c) 1 & 3 only (d) 1, 2 & 3		(a) केवल 1 (b) केवल 2 और 3 (c) केवल 1 और 3 (d) 1, 2 & 3
Prelims 2010	Consider the following actions by the Govt:	सरकार द्वारा निम्नलिखित कार्यों पर विचार करें:
1. Cutting the tax rates		1. कर दरों में कटौती
2. Increasing the government spending		2. सरकारी खर्च बढ़ाना
3. Abolishing subsidies in the context of economic recession		3. आर्थिक मंदी के संदर्भ में सब्सिडी को समाप्त करना
Which of the above actions can be considered a part of the "fiscal stimulus" package?		उपरोक्त कार्यों में से किसे "राजकोषीय प्रोत्साहन" पैकेज का हिस्सा माना जा सकता है?
(a) <u>1 and 2 only</u> (b) 2 only (c) 1 and 3 only (d) 1, 2 and 3		(a) केवल 1 और 2 (b) केवल 2 (c) केवल 1 और 3 (d) 1, 2 और 3
Prelims 2011	Which one of the following statements appropriately describes the "fiscal stimulus"?	निम्नलिखित में से कौन सा कथन "राजकोषीय प्रोत्साहन" का उचित वर्णन करता है?
(a) It is a massive investment by the government in manufacturing sector to ensure the supply of goods to meet the demand surge caused by rapid economic growth.		a) यह तेजी से आर्थिक विकास के कारण मांग वृद्धि को पूरा करने के लिए माल की आपूर्ति सुनिश्चित करने के लिए विनिर्माण क्षेत्र में सरकार द्वारा किया गया एक बड़ा निवेश है।
(b) It is an intense affirmative action of the govt to boost economic activity in the country.		b) यह देश में आर्थिक गतिविधियों को बढ़ावा देने के लिए सरकार की एक गहन सकारात्मक कार्रवाई है।
(c) It is govt's intensive action on financial institutions to ensure disbursement of loans to agriculture and allied sectors to promote greater food production and contain food inflation.		c) अधिक खाद्य उत्पादन को बढ़ावा देने और खाद्य मुद्रास्फीति को नियंत्रित करने के लिए कृषि और संबद्ध क्षेत्रों को ऋण का वितरण सुनिश्चित करने के लिए वित्तीय संस्थानों पर सरकार की गहन कार्रवाई है।
(d) It is an extreme affirmative action by the govt. to pursue its policy of financial inclusion.		d) यह सरकार द्वारा वित्तीय समावेशन की अपनी नीति को आगे बढ़ाने के लिए एक अत्यधिक सकारात्मक कार्रवाई है।
Prelims 2020	If another global financial crisis happens in near future, which of the following actions/policies are most likely to give some immunity to India?	यदि निकट भविष्य में एक और वैश्विक वित्तीय संकट होता है, तो निम्नलिखित में से कौन-से कार्य/नीतियाँ, भारत को, सबसे अधिक संभावना के साथ, कुछ उन्मुक्ति प्रदान कर सकती हैं ?
1. Not depending on short-term foreign borrowings		1. अल्पकालिक विदेशी ऋणों पर निर्भर न रहना
2. Opening up to more foreign banks		2. कुछ और विदेशी बैंकों को प्रारंभ करना
3. Maintaining full capital account convertibility		3. पूंजी खाते में पूर्ण परिवर्तनीयता को बनाए रखना
(a) <u>1 only</u> (b) 1 & 2 only (c) 3 only (d) 1, 2 & 3		(a) केवल 1 (b) केवल 1 और 2 (c) केवल 3 (d) 1, 2 और 3
<p>https://indianexpress.com/article/opinion/editorials/express-view-on-sbi-report-k-shaped-questions-9102377/</p> <p>Stock market at lifetime high! Link</p> <p>Stock market indicates wealth of top companies (Sensex 30 companies, Nifty 50 companies) Sensex and Nifty almost tripled in last 4 years. They are at lifetime high (March 2024) i.e. wealth of their owners almost tripled in last 4 years.</p> <p>शेयर बाजार शीर्ष कंपनियों की संपत्ति का संकेत देता है (सेंसेक्स 30 कंपनियाँ, निफ्टी 50 कंपनियाँ) पिछले 4 साल में सेंसेक्स और निफ्टी लगभग तीन गुना हो गए हैं। वे आजीवन उच्च स्तर पर हैं (मार्च 2024) यानी उनके मालिकों की संपत्ति पिछले 4 वर्षों में लगभग तीन गुना हो गई।</p> <p>80 crore don't have money for food Link</p> <p>NFSA 2013 gives legal guarantee of ₹ 3/kg rice, ₹ 2/kg wheat, ₹ 1/kg coarse grain. But people can't afford even this. Global Hunger Index ranked India 111/125 in 2023. Hence, govt is giving free ration to 80 crore people.</p> <p>NFSA 2013, 3 रुपये किलो चावल, 2 रुपये किलो गेहूँ, 1 रुपये किलो मोटा अनाज की कानूनी गारंटी देता है। पर लोगों के पास इतना सस्ता अनाज खरीदने के भी पैसे नहीं हैं। ग्लोबल हंगर इंडेक्स 2023 में भारत का 111/125 स्थान था। इसलिए, सरकार 80 करोड़ लोगों को मुफ्त राशन दे रही है।</p>		
<p>Rich became richer अमीर, और अमीर हो गया</p> <p>Poor became poorer गरीब, और गरीब हो गया</p> <p>K-shape recovery</p>		
Separate explanation videos are available in English & Hindi		अंग्रेजी और हिंदी में अलग-अलग वीडियो उपलब्ध हैं
www.allinclusiveias.com	Prelims 2024	Economy
		Class-01
		Page-007
		© All Inclusive IAS